


A - EXAMEN MUZIEKLEER 2011-2012



 ALT-SLEUTEL

NAAM: INSTRUMENT:

EMAILADRES: TEL. NUMMER:

Totaal
aantal
punten:
Eindcijfer:

Vraag

1

behaald aantal
punten (max 10):

SOLFEGE - INTERVALLEN HOREN

De intervallen worden voorgespeeld. Welke intervallen hoor je?
Kruis bij iedere vraag het juiste antwoord aan, zo dus:

- a prime secunde terts kwart kwint
- b prime secunde terts kwart kwint
- c prime secunde terts kwart kwint
- d prime secunde terts kwart kwint
- e prime secunde terts kwart kwint


Vraag

2


behaald aantal
punten (max 10):

SOLFEGE - RITMISCH - EN MELODISCH DICTEE

- a RITMISCH DICTEE: Er wordt een ritme in gedeelten voorgespeeld.
Noteer het ritme met behulp van noten op de onderstaande notenbalk.



- b MELODISCH DICTEE: Er wordt een melodie in gedeelten voorgespeeld.
Noteer de melodie met behulp van noten op de onderstaande notenbalk.



Vraag

3

behaald aantal
punten (max 10):

NOTEN EN VOORTEKENS

Schrijf de namen van de noten boven het voorbeeldje (bijv. c, f of bes) en schrijf eronder hoeveel tellen ze duren. (bijv. 1, 2 of ½)

naam:



duur:

Vraag

4

behaald aantal
punten (max 10):

HERHALINGSTEKENS

Bestudeer het voorbeeld en beantwoord dan de vragen.
Let speciaal op de herhalingsstekens die je ziet!

- a) Hoe vaak moet je in dit stukje maat 1 spelen? keer
- b) Hoe vaak moet je in dit stukje maat 3 spelen? keer
- c) Hoe vaak moet je in dit stukje maat 8 spelen? keer
- d) Hoe vaak moet je in dit stukje maat 15 spelen? keer
- e) Hoe vaak moet je in dit stukje maat 16 spelen? keer

Vraag
5 behaald aantal punten (max 10):

DYNAMISCHE TEKENS

Schrijf achter de onderstaande omschrijvingen de bijbehorende dynamische tekens:

forte, sterk:

decrescendo:

matig zacht:

geleidelijk toenemen in sterkte:

pianissimo:

Vraag
6 behaald aantal punten (max 10):

VREEMDE WOORDEN EN TEKENS

Bekijk het muziekstukje en voor de opdrachten uit.

Adagio ♩ = 60

riten. *a tempo* *rit.*

Zet hieronder de betekenis achter de vreemde woorden en tekens:

Adagio

.....

♩ = 60

.....

a tempo

.....

riten.

.....

.....

vraag

7

behaald aantal
punten (max 10):

ARTICULATIE - BOGEN EN PUNTEN

Bekijk het notenvoorbeeld
en beantwoord dan de vragen:



a Wat betekent de boog van maat 1 tot 3?

b Wat betekent het boogje tussen maat 4 en 5?

c Wat betekenen de punten in maat 3 en 4?

d Wat betekent de punt in maat 5?

e Wat betekent de punt in maat 6?

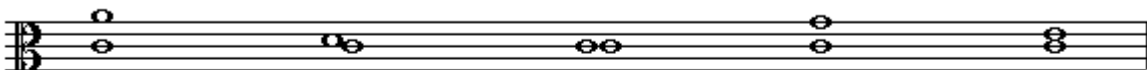
vraag

8

behaald aantal
punten (max 10):

INTERVALLEN

Noteer de namen van de intervallen uit het voorbeeld
op de lijn onder de notenbalk



Vraag
9

behaald aantal
punten (max 10):

MAATSOORTEN

Schrijf achter de drie onderstaande voorbeeldjes de maatsoorten waarin ze staan en leg uit wat die maatsoorten betekenen:

a



.....
.....
.....

b



.....
.....
.....

c



.....
.....
.....

Vraag
10

behaald aantal
punten (max 10):

DE STAMTONEN

Voor de opdrachten uit die je hieronder ziet en schrijf ruim ... gebruik de hele notenbalk!!

- a** Noteer op de lege notenbalk de stamtonenrij
- b** Noteer de namen onder alle noten
- c** Noteer de afstanden tussen alle noten
- d** Zet een cirkeltje om de noot die we de terts noemen
- e** De stamtonenrij is gelijk aan de:

