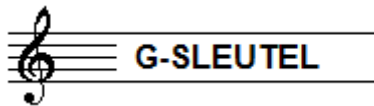


# A - EXAMEN MUZIEKLEER 2011-2012



NAAM: .....	INSTRUMENT: .....
EMAILADRES: .....	TEL. NUMMER: .....

Totaal aantal punten: .....	Eindcijfer: .....
-----------------------------------	-------------------

<b>Vraag</b>	behaald aantal punten (max 10): .....
<b>1</b>	

## SOLFEGE - INTERVALLEN HOREN


De intervallen worden voorgespeeld. Welke intervallen hoor je?  
Kruis bij iedere vraag het juiste antwoord aan, zo dus:

- a**    prime  secunde  terts  kwart  kwint
- b**    prime  secunde  terts  kwart  kwint
- c**    prime  secunde  terts  kwart  kwint
- d**    prime  secunde  terts  kwart  kwint
- e**    prime  secunde  terts  kwart  kwint


<b>Vraag</b>	behaald aantal punten (max 10): .....
<b>2</b>	

## SOLFEGE - RITMISCH - EN MELODISCH DICTEE

- a**    RITMISCH DICTEE: Er wordt een ritme in gedeelten voorgespeeld.  
Noteer het ritme met behulp van noten op de onderstaande notenbalk.



- b**    MELODISCH DICTEE: Er wordt een melodie in gedeelten voorgespeeld.  
Noteer de melodie met behulp van noten op de onderstaande notenbalk.



**Vraag****3**behaald aantal  
punten (max 10): .....**NOTEN EN VOORTEKENS**Schrijf de namen van de noten boven het voorbeeldje (bijv. c, f of bes)  
en schrijf eronder hoeveel tellen ze duren. (bijv. 1, 2 of ½)

naam: .....



duur: .....

**Vraag****4**behaald aantal  
punten (max 10): .....**HERHALINGSTEKENS**Bestudeer het voorbeeld en beantwoord dan de vragen.  
Let speciaal op de herhalingsstekens die je ziet!

- a** Hoe vaak moet je in dit stukje maat 1 spelen? ..... keer
- b** Hoe vaak moet je in dit stukje maat 3 spelen? ..... keer
- c** Hoe vaak moet je in dit stukje maat 8 spelen? ..... keer
- d** Hoe vaak moet je in dit stukje maat 15 spelen? ..... keer
- e** Hoe vaak moet je in dit stukje maat 16 spelen? ..... keer

**Vraag**  
5

behaald aantal  
punten (max 10): .....

### DYNAMISCHE TEKENS

Schrijf achter de onderstaande omschrijvingen de bijbehorende dynamische tekens:

forte, sterk:

decrescendo:

matig zacht:

geleidelijk toenemen in sterkte:

pianissimo:

**Vraag**  
6

behaald aantal  
punten (max 10): .....

### VREEMDE WOORDEN EN TEKENS

Bekijk het muziekstukje en voor de opdrachten uit.

**Adagio** ♩ = 60

*riten.* *a tempo* *rit.*

Zet hieronder de betekenis achter de vreemde woorden en tekens:

**Adagio**

.....

♩ = 60

.....

*a tempo*

.....

*riten.*

.....



.....

**vraag**

7

behaald aantal  
punten (max 10): .....

### ARTICULATIE - BOGEN EN PUNTEN

Bekijk het notenvoorbeeld  
en beantwoord dan de vragen:



**a** Wat betekent de boog van maat 1 tot 3? .....

**b** Wat betekent het boogje tussen maat 4 en 5? .....

**c** Wat betekenen de punten in maat 3 en 4? .....

**d** Wat betekent de punt in maat 5? .....

**e** Wat betekent de punt in maat 6? .....

**vraag**

8

behaald aantal  
punten (max 10): .....

### INTERVALLEN

Noteer de namen van de intervallen uit het voorbeeld  
op de lijn onder de notenbalk



**Vraag**  
9

behaald aantal  
punten (max 10): .....

### MAATSOORTEN

Schrijf achter de drie onderstaande voorbeeldjes de maatsoorten waarin ze staan en leg uit wat die maatsoorten betekenen:



.....

.....

.....



.....

.....

.....



.....

.....

.....

**Vraag**  
10

behaald aantal  
punten (max 10): .....

### DE STAMTONEN

Voor de opdrachten uit die je hieronder ziet en schrijf ruim ... gebruik de hele notenbalk!!

- a Noteer op de lege notenbalk de stamtonenrij
- b Noteer de namen onder alle noten
- c Noteer de afstanden tussen alle noten
- d Zet een cirkeltje om de noot die we de terts noemen
- e De stamtonenrij is gelijk aan de: .....

