

NAAM:	INSTRUMENT:
EMAILADRES:	TEL. NUMMER:

Totaal aantal punten:	Eindcijfer:
-----------------------------	-------------------

Vraag	behaald aantal punten (max 10):
1	

SOLFEGE - INTERVALLEN HOREN

De intervallen worden voorgespeeld. Welke intervallen hoor je?
Kruis bij iedere vraag het juiste antwoord aan, zo dus:


- | | | | | | | | | |
|---|--------------------------------|----------------------------------|--------------------------------|--------------------------------|--------------------------------|-------------------------------|----------------------------------|---------------------------------|
| a | prime <input type="checkbox"/> | secunde <input type="checkbox"/> | terts <input type="checkbox"/> | kwart <input type="checkbox"/> | kwint <input type="checkbox"/> | sext <input type="checkbox"/> | septiem <input type="checkbox"/> | oktaaf <input type="checkbox"/> |
| b | prime <input type="checkbox"/> | secunde <input type="checkbox"/> | terts <input type="checkbox"/> | kwart <input type="checkbox"/> | kwint <input type="checkbox"/> | sext <input type="checkbox"/> | septiem <input type="checkbox"/> | oktaaf <input type="checkbox"/> |
| c | prime <input type="checkbox"/> | secunde <input type="checkbox"/> | terts <input type="checkbox"/> | kwart <input type="checkbox"/> | kwint <input type="checkbox"/> | sext <input type="checkbox"/> | septiem <input type="checkbox"/> | oktaaf <input type="checkbox"/> |
| d | prime <input type="checkbox"/> | secunde <input type="checkbox"/> | terts <input type="checkbox"/> | kwart <input type="checkbox"/> | kwint <input type="checkbox"/> | sext <input type="checkbox"/> | septiem <input type="checkbox"/> | oktaaf <input type="checkbox"/> |
| e | prime <input type="checkbox"/> | secunde <input type="checkbox"/> | terts <input type="checkbox"/> | kwart <input type="checkbox"/> | kwint <input type="checkbox"/> | sext <input type="checkbox"/> | septiem <input type="checkbox"/> | oktaaf <input type="checkbox"/> |

Vraag	behaald aantal punten (max 10):
2	

SOLFEGE - RITMISCH - EN MELODISCH DICTEE


a RITMISCH DICTEE Er wordt een ritme in gedeelten voorgespeeld.

Noteer het ritme met behulp van noten op de onderstaande notenbalk.



b MELODISCH DICTEE Er wordt een melodie in gedeelten voorgespeeld.

Noteer de melodie met behulp van noten op de onderstaande notenbalk.



Vraag
3

behaald aantal
punten (max 10):

NOTEN EN VOORTEKENS

Zet de namen van alle noten erboven
en zet er onder hoeveel tellen ze duren.

naam:



duur:

Vraag
4

behaald aantal
punten (max 10):

MAJEUR EN MINEUR

Bestudeer het volgende voorbeeld en beantwoord de vragen
door het plaatje goed of fout door te strepen.



- | | | | |
|---|--|--------|--------|
| a | In maat 2 staat het C-majeur-akkoord . . . | GOED ☺ | FOUT ☹ |
| b | In maat 4 staat het C-mineur-akkoord . . . | GOED ☺ | FOUT ☹ |
| c | In maat 5 staat het C-mineur-akkoord . . . | GOED ☺ | FOUT ☹ |
| d | In maat 7 staat het A-mineur-akkoord . . . | GOED ☺ | FOUT ☹ |
| e | In maat 9 staat het A-mineur-akkoord . . . | GOED ☺ | FOUT ☹ |

Vraag
5
behaald aantal
punten (max 10):

STAMTONEN, TOONLADDERS EN TOONSOORT

Bestudeer de voorbeelden
en beantwoord daarna de vragen

A



B



C



D



E



- a** Hoe heet de toonladder in voorbeeld A?
- b** Hoe heet de toonladder in voorbeeld B?
- c** In welke toonsoort staat voorbeeld C?
- d** Hoe noemen we de noten in voorbeeld D?
- e** Hoe heet de toonladder in voorbeeld E?

Vraag
6
behaald aantal
punten (max 10):

TEMPO-AANDUIDINGEN EN VREEMDE WOORDEN

Zet de betekenis van de volgende
moeilijke woorden op de lijn daarachter

- a** Largo
- b** Ritenuto
- c** Fortissimo
- d** Accelerando
- e** Decrescendo

Vraag

behaald aantal
punten (max 10):

7

ARTICULATIE

Beschrijf de articulatie-tekenen die je in het voorbeeld hieronder ziet.
Noteer het teken, de naam en de betekenis.




Vraag

behaald aantal
punten (max 10):

8

INTERVALLEN

Teken de gevraagde intervallen op de notenbalk
Neem daarbij als onderste toon de C.



SEXT

OKTAAF

GROTE 3

KWART

KLEINE 3

Vraag

behaald aantal
punten (max 10):

9

MAATSOORTEN

Beantwoord de vragen bij het volgende voorbeeld:

- a Noteer de maatsoort achter de sleutel, bij voorbeeld A.
- b Voorbeeld B staat niet in vierkwartsmaat. Welke wel? Noteer deze achter de sleutel.
- c Maak de maten bij voorbeeld C compleet door zelf noten toe te voegen.
- d Noteer de maatsoort achter de sleutel, bij voorbeeld D.
- e Noteer onder de noten van voorbeeld E, hoelang ze duren in de beide maatsoorten.

Vraag behaald aantal punten (max 10): 10

AFKORTINGEN EN TEKENS

Bestudeer het voorbeeld en schrijf daarna op wat de verschillende tekens betekenen.

- a = _____
- b = _____
- c = _____
- d = _____
- e = _____