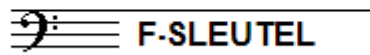


EXAMEN MUZIEKLEER



A 2013 - 2014

NAAM: INSTRUMENT:



TOTAAL AANTAL PUNTEN: EINDCIJFER:

Vraag

1

behaald aantal
punten (max 10):

SOLFEGE - INTERVALLEN HOREN

De intervallen worden voorgespeeld. Welke intervallen hoor je?

Kruis bij iedere vraag het juiste antwoord aan, zo dus:

- | | | | | | |
|----------------------------|--------------------------------|----------------------------------|-------------------------------|--------------------------------|--------------------------------|
| <input type="checkbox"/> a | prime <input type="checkbox"/> | secunde <input type="checkbox"/> | ters <input type="checkbox"/> | kwart <input type="checkbox"/> | kwint <input type="checkbox"/> |
| <input type="checkbox"/> b | prime <input type="checkbox"/> | secunde <input type="checkbox"/> | ters <input type="checkbox"/> | kwart <input type="checkbox"/> | kwint <input type="checkbox"/> |
| <input type="checkbox"/> c | prime <input type="checkbox"/> | secunde <input type="checkbox"/> | ters <input type="checkbox"/> | kwart <input type="checkbox"/> | kwint <input type="checkbox"/> |
| <input type="checkbox"/> d | prime <input type="checkbox"/> | secunde <input type="checkbox"/> | ters <input type="checkbox"/> | kwart <input type="checkbox"/> | kwint <input type="checkbox"/> |
| <input type="checkbox"/> e | prime <input type="checkbox"/> | secunde <input type="checkbox"/> | ters <input type="checkbox"/> | kwart <input type="checkbox"/> | kwint <input type="checkbox"/> |


Vraag

2

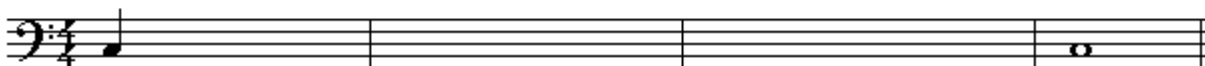
behaald aantal
punten (max 10):

SOLFEGE - RITMISCH - EN MELODISCH DICTEE

- a RITMISCH DICTEE: Er wordt een ritme in gedeelten voorgespeeld.
Noteer het ritme met behulp van noten op de onderstaande notenbalk.



- b MELODISCH DICTEE: Er wordt een melodie in gedeelten voorgespeeld.
Noteer de melodie met behulp van noten op de onderstaande notenbalk.



Vraag

3


behaald aantal
punten (max 10):

NOTEN EN VOORTEKENS

Schrijf de namen van de noten boven het voorbeeldje (bijv. c, f of bes) en schrijf eronder hoeveel tellen ze duren. (bijv. 1, 2 of 1/2)

LEES HEEL GOED WAT DE BEDOELING IS VAN DEZE VRAAG !!

naam:



duur:

Vraag**4**behaald aantal
punten (max 10):**HERHALINGSTEKENS**In het mini-muziekstukje hieronder staan herhalingstekens
en alle maten zijn genummerd.

Bekijk de tekens goed en beantwoord dan de vragen.

- a Hoe vaak moet je in het totaal maat 1 spelen? _____
- b Hoe vaak moet je in het totaal maat 2 spelen? _____
- c Hoe vaak moet je in het totaal maat 4 spelen? _____
- d Hoe vaak moet je in het totaal maat 6 spelen? _____
- e Hoe vaak moet je in het totaal maat 8 spelen? _____

Vraag**5**behaald aantal
punten (max 10):**DYNAMISCHE TEKENS**

In het volgende voorbeeld zie je dynamische tekens.

Bekijk het muziekstukje goed en beantwoord de vragen.

- a Wat moet je doen in maat 2? _____
- b Wat moet je doen in maat 4? _____
- c Wat moet je doen in maat 5? _____
- d Wat moet je doen in maat 6? _____
- e Wat moet je doen in maat 7? _____

Vraag

6

behaald aantal
punten (max 10):

VREEMDE WOORDEN EN TEKENS/TEMPO

Bekijk goed alle tekens in het muziekstukje en beantwoord dan de vragen.

- a Wat moet je doen in maat 5? _____
- b Wat moet je doen in maat 6? _____
- c Wat moet je doen in maat 7? _____
- d Wat moet je doen op de 2e tel in maat 8? _____
- e wat betekent het getal 119? _____

Vraag

7

behaald aantal
punten (max 10):

ARTICULATIE - BOGEN EN PUNTEN

In het notenvoorbeeld zie je verschillende bogen en punten. Bekijk het goed en vertel wat de onderstaande dingen betekenen:

- a Het boogje in maat 1? _____
- b De boog in maat 3? _____
- c De puntjes in maat 4? _____
- d De punten in maat 5 en 6? _____
- e De punten in maat 7? _____

Vraag

8

behaald aantal
punten (max 10):

INTERVALLEN

Teken de gevraagde intervallen op de notenbalk. Neem telkens als onderste toon de c.

terts kwint secunde kwart prime

Vraag

9

behaald aantal
punten (max 10):

MAATSOORTEN

Bekijk het onderstaande muziekstukje en
beantwoord daarna de vragen.

- a In welke maatsoort staat het stukje?
- b Hoeveel tellen zitten er in iedere maat?
- c Hoelang duurt hier de kwartnoot?
- d Hoelang duurt hier de achtste noot?
- e En hoelang duurt de kwartnoot met punt?

Vraag

10

behaald aantal
punten (max 10):

DE STAMTONENRIJ

Voor de opdrachten uit die je hieronder ziet.
Denk eraan: SCHRIJF RUIM gebruik de hele notenbalk!!

- a Teken de sleutel waarvan jij altijd leest op de lege notenbalk
- b Schrijf dan de noten op van de stamtonenrij
- c Schrijf de namen van alle noten eronder
- d Noteer ook de afstanden tussen de noten
- e Zet een cirkeltje om de noot die we de tertse noemen