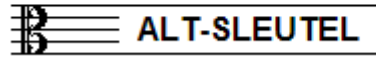


# EXAMEN MUZIEKLEER



## A 2014 - 2015

NAAM: ..... INSTRUMENT: .....



TOTAAL AANTAL PUNTEN: ..... EINDCIJFER: .....

Vraag

1

behaald aantal  
punten (max: 10): .....

### SOLFEGE - INTERVALLEN HOREN

De intervallen worden voorgespeeld. Welke intervallen hoor je?  
Kruis bij iedere vraag het juiste antwoord aan, zo dus:

a	prime <input type="checkbox"/>	secunde <input type="checkbox"/>	terts <input type="checkbox"/>	kwart <input type="checkbox"/>	kwint <input type="checkbox"/>
b	prime <input type="checkbox"/>	secunde <input type="checkbox"/>	terts <input type="checkbox"/>	kwart <input type="checkbox"/>	kwint <input type="checkbox"/>
c	prime <input type="checkbox"/>	secunde <input type="checkbox"/>	terts <input type="checkbox"/>	kwart <input type="checkbox"/>	kwint <input type="checkbox"/>
d	prime <input type="checkbox"/>	secunde <input type="checkbox"/>	terts <input type="checkbox"/>	kwart <input type="checkbox"/>	kwint <input type="checkbox"/>
e	prime <input type="checkbox"/>	secunde <input type="checkbox"/>	terts <input type="checkbox"/>	kwart <input type="checkbox"/>	kwint <input type="checkbox"/>


Vraag

2


behaald aantal  
punten (max: 10): .....

### SOLFEGE - RITMISCH - EN MELODISCH DICTEE

- a RITMISCH DICTEE: Er wordt een ritme in gedeelten voorgespeeld.  
Noteer het ritme met behulp van noten op de onderstaande notenbalk.



- b MELODISCH DICTEE: Er wordt een melodie in gedeelten voorgespeeld.  
Noteer de melodie met behulp van noten op de onderstaande notenbalk.




Vraag

3

behaald aantal  
punten (max: 10): .....

### NOTEN EN VOORTEKENS

Teken de gevraagde noten op de notenbalk hieronder.  
Denk aan de maatstrepen en  
zorg dat de noten duidelijk leesbaar zijn.



A F E C BES A E F FIS G

**Vraag**

4

behaald aantal  
punten (max: 10):

**DE LENGTE VAN DE NOTEN**

Noteer onder alle noten uit het voorbeeld hoeveel tellen ze duren  
Kijk goed naar de maatsoort en  
noteer dan het juiste cijfer (aantal tellen) onder de noten.



-----

**Vraag**

5

behaald aantal  
punten (max: 10):

**MUZIEK TEKENS**

In het volgende voorbeeld zie je verschillende tekens.  
In elke maat zie je weer een ander teken staan.  
Bekijk het voorbeeld goed en beantwoord dan de vragen.



- a Wat moet je doen in maat 1? .....
- b Wat moet je doen in maat 3? .....
- c en aan het einde van maat 4? .....
- d Wat moet je doen in maat 6? .....
- e Wat moet je doen in maat 7? .....
- f Wat moet je doen in maat 8? .....
- g en aan het einde van maat 9? .....
- h Wat betekent de haak met cijfertje 1. in maat 4? .....

i Wat betekent D. C. in maat 9? .....

j In welke maat is het liedje echt afgelopen? .....



**Vraag**

6

behaald aantal  
punten (max: 10):

**VREEMDE WOORDEN EN TEMPO-AANDUIDINGEN**

In het voorbeeld hieronder zie je tekens en woorden die te maken hebben met het tempo waarin je een muziekstuk speelt. Bekijk het voorbeeld goed en beantwoord dan de vragen.

Allegro ♩ = 125

riten . . . . .

a tempo

adagio

- a Wat betekent Allegro? .....
- b Wat betekent riten. in maat 3? .....
- c Wat betekent het teken in maat 4? .....
- d Wat moet je doen in maat 5? .....
- e wat moet je doen in maat 7? .....



**Vraag**

7

behaald aantal  
punten (max: 10):

**BOGEN EN PUNTEN**

In het notenvoorbeeld zie je verschillende bogen en punten. Bekijk ze goed en schrijf de betekenis achter de vraag.

2 3 4

- a Wat betekent het boogje in het begin van maat 1? .....
- b en dat tussen maat 1 en 2? .....
- c Wat betekent de punt in maat 2? .....
- d en de puntjes in maat 3? .....
- e en de puntjes in maat 4? .....




Vraag

8

behaald aantal  
punten (max: 10):

### INTERVALLEN

Teken de gevraagde intervallen op de notenbalk.  
Neem telkens als onderste toon de c.



kwart

secunde

prime

terts

kwint

Vraag

9

behaald aantal  
punten (max: 10):

### MAATSOORTEN

Bekijk het onderstaande voorbeeldje nauwkeurig.  
Beantwoord de vragen  
en voer de opdrachten uit.



- a
- b
- c
- d
- e

Noteer de aanduiding voor de maatsoort aan het begin van de regel

Hoeveel tellen zitten er in iedere maat?

Hoelang duurt hier de kwartnoot?

Hoelang duurt hier de achtste noot?

En hoelang duurt de kwartnoot met punt?

Vraag

10

behaald aantal  
punten (max: 10):

### DE STAMTONENRIJ

Voer de opdrachten uit die bij deze vraag horen en denk eraan:  
**SCHRIJF RUIM EN DUIDELIJK** - zorg dat je alle noten kunt lezen!  
Gebruik daarom de hele notenbalk!!

- a
- b
- c
- d
- e

Teken eerst de sleutel waarvan jij altijd leest aan het begin van de lege notenbalk.

Schrijf dan de noten op van de stamtonenrij.

Schrijf de namen van alle noten eronder.

Noteer ook de afstanden tussen de noten, met behulp van boogjes.

Wijs met een pijltje de noot aan die we de tertsen noemen.

