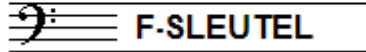


EXAMEN MUZIEKLEER



B 2014 - 2015

NAAM: INSTRUMENT:



TOTAAL AANTAL PUNTEN: EINDCIJFER:

Vraag
1 behaald aantal punten (max 10):

SOLFEGE - INTERVALLEN HOREN

De intervallen worden voorgespeeld. Welke intervallen hoor je?
Kruis bij iedere vraag het juiste antwoord aan, zo dus:

- a
- b
- c
- d
- e


- prime secunde terts kwart kwint sext septiem oktaaf
prime secunde terts kwart kwint sext septiem oktaaf
prime secunde terts kwart kwint sext septiem oktaaf
prime secunde terts kwart kwint sext septiem oktaaf
prime secunde terts kwart kwint sext septiem oktaaf

Vraag
2 behaald aantal punten (max 10):

SOLFEGE - RITMISCH - EN MELODISCH DICTEE


a

RITMISCH DICTEE: Er wordt een ritme in gedeelten voorgespeeld.
Noteer het ritme met behulp van noten op de onderstaande notenbalk.



b

MELODISCH DICTEE: Er wordt een melodie in gedeelten voorgespeeld.
Noteer de melodie met behulp van noten op de onderstaande notenbalk.



Vraag
3 behaald aantal punten (max 10):

DE LENGTE VAN DE NOTEN

Noteer de aanduiding voor de maatsoort achter de sleutel en zet met behulp van een cijfer onder alle noten hoeveel tellen ze duren.



.....


Vraag

4

behaald aantal punten (max: 10):

NOTEN EN VOORTEKENS

Noteer de gevraagde noten op de notenbalk. Schrijf duidelijk en zorg dat de noten goed leesbaar zijn.



bes c d fis g as b cis d b




Vraag

5

behaald aantal punten (max: 10):

MAJEUR EN MINEUR

Noteer op de onderstaande notenbalk de gevraagde akkoorden:



D mineur F majeur G majeur A mineur E mineur



Vraag

6

behaald aantal punten (max: 10):

VREEMDE WOORDEN EN TEKENS

Bekijk het onderstaande voorbeeld nauwkeurig en beantwoord de vragen.

Denk eraan dat sommige vragen met elkaar hebben te maken!

♩ = 96

- a Wat is de snelheid van dit stuk?
- b Wat moet je doen in maat 2
- c Welk akkoord komt in maat 4?
- d Hoe lang duurt de a in maat 5?
- e Wat moet je doen in maat 6?



Vraag

7

behaald aantal
punten (max: 10):

BOGEN EN PUNTEN

In het voorbeeldje hieronder moet je zelf iets bijschrijven.
Dit moet je doen met behulp van een boogje of een punt.
Lees nauwkeurig de opdrachten:



- a
- b
- c
- d
- e

Het aantal tellen in maat 1 klopt niet. Zorg er voor dat het wel klopt.
Het aantal tellen in maat 2 is ook niet juist. Zorg er voor dat het wel goed is.
In maat 3 moet je staccato spelen. Laat dit zien.
In maat 4 moet je legato spelen. Laat dit ook zien.
De beide b's in maat 1 en 2 moeten samen 1 noot worden.


Vraag

8

behaald aantal
punten (max: 10):

INTERVALLEN

Teken de gevraagde intervallen op de notenbalk
Neem daarbij als onderste toon de C.
Schrijf duidelijk, zodat de noten goed leesbaar zijn.



kwart grote terts kleine terts sext kwint

Vraag

9

behaald aantal
punten (max: 10):

MAATSOORTEN

In het voorbeeld zie je 5 stukjes in verschillende maatsoorten.
Bekijk de groepjes en het aantal tellen en noteer dan
aan het begin van elke regel de aanduiding voor de maatsoort.



Vraag


10

behaald aantal
punten (max: 10):


STAMTONEN EN TOONLADDERS

Noteer op de lege notenbalken de gevraagde toonladders.
Lees de opdracht nauwkeurig en
schrijf duidelijk.


a De toonladder van G majeur




b De toonladder van F majeur



c De toonladder van A mineur



d De toonladder van D mineur



e De stamtonenreeks met alle afstanden

