


EXAMEN MUZIEKLEER



B 2015 - 2016

NAAM: INSTRUMENT:



F-SLEUTEL

TOTAAL AANTAL PUNTEN: EINDCIJFER:

Vraag

1

behaald aantal
punten (max 10):

SOLFEGE - INTERVALLEN HOREN

De intervallen worden voorgespeeld. Welke intervallen hoor je?
Kruis bij iedere vraag het juiste antwoord aan, zo dus:

- a
- b
- c
- d
- e

- prime secunde terts kwart kwint sext septiem oktaaf
prime secunde terts kwart kwint sext septiem oktaaf
prime secunde terts kwart kwint sext septiem oktaaf
prime secunde terts kwart kwint sext septiem oktaaf
prime secunde terts kwart kwint sext septiem oktaaf

Vraag


2

behaald aantal
punten (max 10):

SOLFEGE - RITMISCH - EN MELODISCH DICTEE


a

RITMISCH DICTEE: Er wordt een ritme in gedeelten voorgespeeld.
Noteer het ritme met behulp van noten op de onderstaande notenbalk.



b

MELODISCH DICTEE: Er wordt een melodie in gedeelten voorgespeeld.
Noteer de melodie met behulp van noten op de onderstaande notenbalk.



Vraag

3

behaald aantal
punten (max 10):

DE LENGTE VAN DE NOTEN

Noteer met behulp van een cijfer
onder alle noten
hoeveel tellen ze duren.




Vraag

4

behaald aantal
punten (max: 10):

NOTEN EN VOORTEKENS

Noteer de gevraagde noten op de notenbalk.
Schrijf duidelijk en zorg dat de noten goed leesbaar zijn.



G F G Ab Bb Ab A E F# G


Vraag

5

behaald aantal
punten (max: 10):

MAJEUR EN MINEUR

Noteer op de stippellijnen de namen van de genoteerde akkoorden:
(bijvoorbeeld C-mineur of D-majeur, enzovoort)




Vraag

6

behaald aantal
punten (max: 10):

VREEMDE WOORDEN EN TEKENS

Bekijk het onderstaande voorbeeld nauwkeurig
en beantwoord de vragen.
Denk eraan dat sommige vragen met elkaar hebben te maken!



- a) Waar moet je verder spelen na maat 9?
- b) Waar moet je verder spelen wanneer je voor het eerst in maat 6 komt?
- c) Waar moet je verder spelen wanneer je voor de 2e keer in maat 6 komt?
- d) Waarom staat er 8va--- boven de beide regels?
- e) In welk tempo moet je het stukje spelen?

Vraag

7

behaald aantal
punten (max: 10):

BOGEN EN PUNTEN

In het voorbeeldje hieronder moet je zelf iets bijschrijven.
Dit moet je doen met behulp van een boogje of een punt.
Lees nauwkeurig de opdrachten:



- a Wat betekenen de punten in maat 1?
- a Wat betekent de boog in maat 1?
- a Wat betekenen de punten in maat 2?
- a Wat betekenen de boogjes in maat 3?
- a Wat betekenen de punten in maat 4?




Vraag

8

behaald aantal
punten (max: 10):

INTERVALLEN

Teken de gevraagde intervallen op de notenbalk
Neem daarbij als onderste toon de C.
Schrijf duidelijk, zodat de noten goed leesbaar zijn.



oktaaf kwint kleine terts grote terts secunde



Vraag

9

behaald aantal
punten (max: 10):

MAATSOORTEN

Bestudeer het onderstaande voorbeeldje goed
en schrijf onder de noten met het stippelijntje
hoelang ze precies duren in dit geval.



Vraag

10


behaald aantal
punten (max: 10):

STAMTONEN EN TOONLADDERS

Noteer op de lege notenbalken de gevraagde toonladders.
Lees de opdracht nauwkeurig en
schrijf duidelijk.


a

De toonladder van C majeur




b

De toonladder van F majeur




c

De toonladder van G mineur



d

De toonladder van e mineur



e

De stamtonenreeks met alle afstanden

