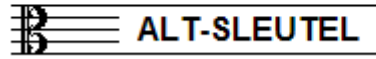


EXAMEN MUZIEKLEER



D 2015 - 2016

NAAM: INSTRUMENT:



TOTAAL AANTAL PUNTEN: EINDCIJFER:

Vraag 1

1

behaald aantal punten (max: 10):

SOLFEGE - INTERVALLEN HOREN

De intervallen worden voorgespeeld. Welke intervallen hoor je?

Vul eerst in: a t/m e en daarna: f t/m j.

Denk aan de toevoegingen klein, groot, verminderd en overmatig.

a

.....

f

.....

b

.....

g

.....

c

.....

h

.....

d

.....

i

.....

e

.....

j

.....

Vraag 2

2


behaald aantal punten (max: 10):

SOLFEGE - RITMISCH - EN MELODISCH DICTEE

a

RITMISCH DICTEE Er wordt een ritme in gedeelten voorgespeeld.


Noteer het ritme met behulp van noten op de onderstaande notenbalk.



b

MELODISCH DICTEE Er wordt een melodie in gedeelten voorgespeeld.

Noteer de melodie met behulp van noten op de onderstaande notenbalk.



Vraag 3


3

behaald aantal punten (max: 10):

INTERVALLEN

Benoem de onderstaande intervallen en






noteer de gevraagde intervallen op de lege notenbalk.



overm. 4 op fis // kleine 7 op es // kleine 3 op bes

Vraag 7 behaald aantal punten (max: 10):






MAATSOORTEN
 Noteer op de notenbalken hieronder de gevraagde maatsoorten. Geef een ritmisch voorbeeld van 1 of 2 maten, noteer de maataanduiding en teken ook de accenten boven de juiste noten.

- a  Een zeven-achtsten maat
- b  Een drie-halven maat
- c  Een negen-achtsten maat
- d  Een twaalf-achtsten maat
- e  Een onregelmatige 9/16



Vraag 8 behaald aantal punten (max: 10):

TOONLADDERS
 Hieronder zie je 5 keer dezelfde tonenreeks genoteerd. Pas deze reeks aan door middel van voortekens, zodat je de gevraagde toonladder krijgt.

- a A-klein: 
- b A-melodisch mineur (alleen stijgend) 
- c A-harmonisch mineur 
- d As-groot 
- e A groot 

Vraag

9

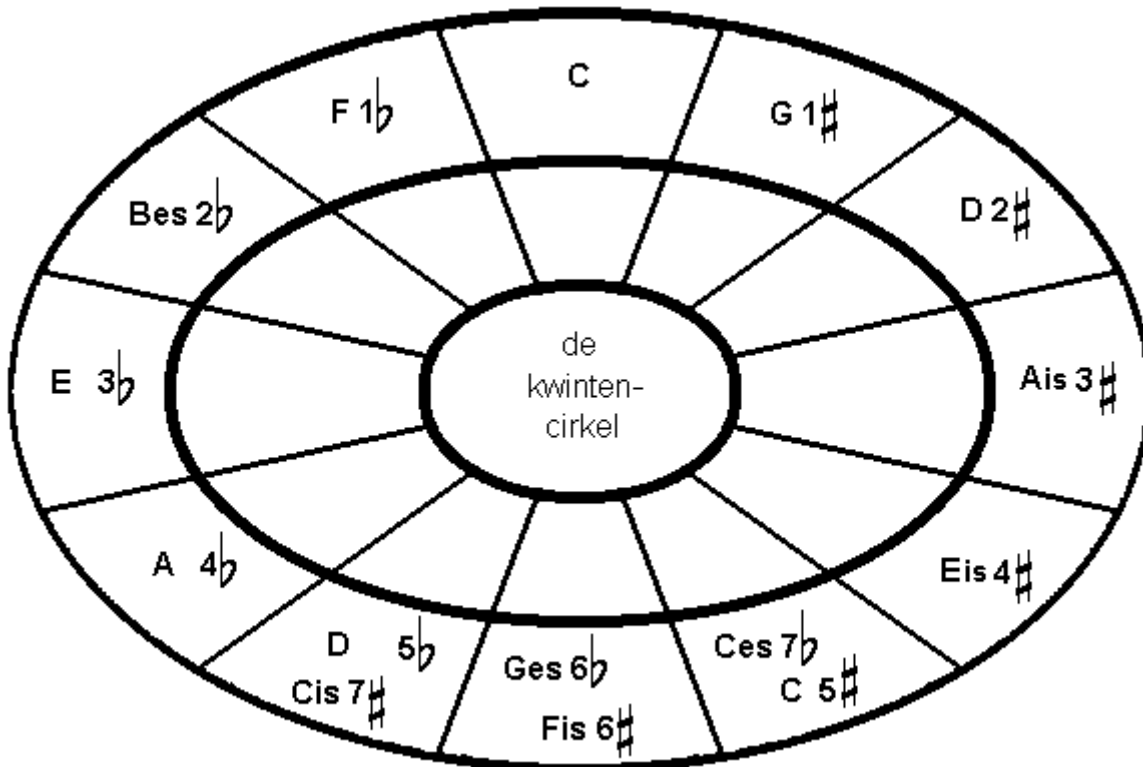
behaald aantal
punten (max: 10):

DE KWINTENCIRKEL

Hieronder zie je de kwintencirkel met de majeur-toonladders.

Wanneer je goed kijkt, merk je dat er fouten in zitten.

Verbeter de fouten die je vindt.



Vraag

10

behaald aantal
punten (max: 10):

ALGEMEEN INZICHT

Het voorbeeld hieronder is een deel van het liedje Autumn Leaves, uit het zogenaamde Real Book.

Bestudeer het voorbeeld en beantwoord de vragen.

(Handwritten) **AUTUMN LEAVES** - JOHNNY MERCER

- a Over welke muziekstijl hebben we het bij dit liedje?
- b Welk akkoord moet je spelen in regel 2, maat 2?
- c Welk akkoord moet je spelen in regel 3, maat 4?
- d Een handgeschreven blad is iets lastiger te lezen, maar wat is het teken in regel 5, maat 4, tussen de b en de ais?
- e Wat voor een karakter zou het liedje hebben, vrolijk, spannend ...?
- f En wie zou de componist van het liedje zijn?