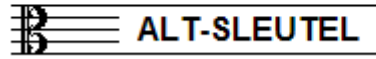


# EXAMEN MUZIEKLEER



## A 2016 - 2017

NAAM: ..... INSTRUMENT: .....



TOTAAL AANTAL PUNTEN: ..... EINDCIJFER: .....

Vraag

1

behaald aantal  
punten (max: 10): .....

### SOLFEGE - INTERVALLEN HOREN

De intervallen worden voorgespeeld. Welke intervallen hoor je?  
Kruis bij iedere vraag het juiste antwoord aan, zo dus:

- a
- b
- c
- d
- e

- |                                |                                  |                               |                                |                                |
|--------------------------------|----------------------------------|-------------------------------|--------------------------------|--------------------------------|
| prime <input type="checkbox"/> | secunde <input type="checkbox"/> | ters <input type="checkbox"/> | kwart <input type="checkbox"/> | kwint <input type="checkbox"/> |
| prime <input type="checkbox"/> | secunde <input type="checkbox"/> | ters <input type="checkbox"/> | kwart <input type="checkbox"/> | kwint <input type="checkbox"/> |
| prime <input type="checkbox"/> | secunde <input type="checkbox"/> | ters <input type="checkbox"/> | kwart <input type="checkbox"/> | kwint <input type="checkbox"/> |
| prime <input type="checkbox"/> | secunde <input type="checkbox"/> | ters <input type="checkbox"/> | kwart <input type="checkbox"/> | kwint <input type="checkbox"/> |
| prime <input type="checkbox"/> | secunde <input type="checkbox"/> | ters <input type="checkbox"/> | kwart <input type="checkbox"/> | kwint <input type="checkbox"/> |

Vraag


2

behaald aantal  
punten (max: 10): .....

### SOLFEGE - RITMISCH - EN MELODISCH DICTEE


a

RITMISCH DICTEE: Er wordt een ritme in gedeelten voorgespeeld.  
Noteer het ritme met behulp van noten op de onderstaande notenbalk.



b

MELODISCH DICTEE: Er wordt een melodie in gedeelten voorgespeeld.  
Noteer de melodie met behulp van noten op de onderstaande notenbalk.



Vraag

3

behaald aantal  
punten (max: 10): .....

### NOTEN EN VOORTEKENS

Schrijf onder de noten met het cirkeltje erom de namen van de noten.  
Bekijk het notenvoorbeeld goed en zorg dat je duidelijk schrijft.




**Vraag**

4

behaald aantal  
punten (max: 10):

**DE LENGTE VAN DE NOTEN**

Noteer onder de noten uit het voorbeeld hoeveel tellen ze duren  
Kijk goed naar de maatsoort en noteer dan het juiste cijfer  
(het aantal tellen) alleen op de streepjes onder de noten.




**Vraag**

5

behaald aantal  
punten (max: 10):

**MUZIEK TEKENS**

In het volgende voorbeeld zie je verschillende tekens.  
In elke maat zie je weer een ander teken staan.  
Bekijk het voorbeeld goed en beantwoord dan de vragen.



- a
- b
- c
- d
- e

Wat betekent het > teken in maat 3 en 4?

En het < teken in maat 5 en 6?

Welke maten uit het liedje moet je 2x spelen?

Wat betekent het teken >8va in maat 8?

En het boogje met de punt in maat 8?

.....

.....

.....

.....

.....



Vraag

6

behaald aantal  
punten (max: 10):

### VREEMDE WOORDEN EN TEMPO-AANDUIDINGEN

In het voorbeeld hieronder zie je tekens en woorden die te maken hebben met het tempo waarin je een muziekstuk speelt. Bekijk het voorbeeld goed en beantwoord dan de vragen.

Adagio  $\text{♩} = 40$



a tempo



- a Wat betekent Adagio? .....
- b Wat betekent het nootje met = 40? .....
- c Wat betekent riten .....
- d Wat betekent a tempo? .....
- e Wat heeft  $\frac{3}{4}$  aan het begin met het tempo te maken? .....



Vraag

7

behaald aantal  
punten (max: 10):

### BOGEN EN PUNTEN

Bekijk het onderstaande notenvoorbeeld goed en voer de opdrachten uit.

Je mag alleen een boog of een punt bijschrijven.



- a Laat zien dat je maat 1 en 2 legato (gebonden) moet spelen
- b Laat zien dat je maat 3 staccato (kort) moet spelen.
- c Maak van de laatste noot van maat 1 en de eerste van maat 2 één noot.
- d Het aantal tellen in maat 4 klopt niet. Hoe kun je dit oplossen?
- e Laat zien dat je in maat 4 weer legato moet spelen




Vraag

8

behaald aantal  
punten (max: 10):

### INTERVALLEN

Teken de gevraagde intervallen op de notenbalk.  
Neem telkens als onderste toon de c.



secunde

septiem

sext

kwart

terts



Vraag

9

behaald aantal  
punten (max: 10):

### MAATSOORTEN

Bekijk het onderstaande voorbeeldje nauwkeurig en zet op de lijntjes,  
onder de noten, hoelang deze noten duren.



Vraag

10

behaald aantal  
punten (max: 10):

### DE STAMTONENRIJ

Voer de opdrachten uit die bij deze vraag horen en denk eraan:  
**SCHRIJF RUIM EN DUIDELIJK** - zorg dat je alle noten kunt lezen!  
Gebruik daarom de hele notenbalk!!

- a
- b
- c
- d
- e

Teken eerst de sleutel waarvan jij altijd leest aan het begin van de lege notenbalk.

Schrijf dan de noten op van de stamtonenrij.

Schrijf de namen van alle noten eronder.

Noteer ook de afstanden tussen de noten, met behulp van boogjes.

Wijs met een pijltje de noot aan die we de tertsen noemen.

