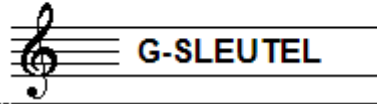


EXAMEN MUZIEKLEER



A 2016 - 2017

NAAM: INSTRUMENT:



TOTAAL AANTAL PUNTEN: EINDCIJFER:

Vraag

1

behaald aantal
punten (max 10):

SOLFEGE - INTERVALLEN HOREN

De intervallen worden voorgespeeld. Welke intervallen hoor je?
Kruis bij iedere vraag het juiste antwoord aan, zo dus:

a	prime <input type="checkbox"/>	secunde <input type="checkbox"/>	terts <input type="checkbox"/>	kwart <input type="checkbox"/>	kwint <input type="checkbox"/>
b	prime <input type="checkbox"/>	secunde <input type="checkbox"/>	terts <input type="checkbox"/>	kwart <input type="checkbox"/>	kwint <input type="checkbox"/>
c	prime <input type="checkbox"/>	secunde <input type="checkbox"/>	terts <input type="checkbox"/>	kwart <input type="checkbox"/>	kwint <input type="checkbox"/>
d	prime <input type="checkbox"/>	secunde <input type="checkbox"/>	terts <input type="checkbox"/>	kwart <input type="checkbox"/>	kwint <input type="checkbox"/>
e	prime <input type="checkbox"/>	secunde <input type="checkbox"/>	terts <input type="checkbox"/>	kwart <input type="checkbox"/>	kwint <input type="checkbox"/>


Vraag

2


behaald aantal
punten (max 10):

SOLFEGE - RITMISCH - EN MELODISCH DICTEE

- a RITMISCH DICTEE: Er wordt een ritme in gedeelten voorgespeeld.
Noteer het ritme met behulp van noten op de onderstaande notenbalk.



- b MELODISCH DICTEE: Er wordt een melodie in gedeelten voorgespeeld.
Noteer de melodie met behulp van noten op de onderstaande notenbalk.




Vraag

3

behaald aantal
punten (max 10):

NOTEN EN VOORTEKENS

Schrijf onder de noten met het cirkeltje erom de namen van de noten.
Bekijk het notenvoorbeeld goed
en zorg dat je duidelijk schrijft.



Vraag

4

behaald aantal
punten (max: 10):

DE LENGTE VAN DE NOTEN

Noteer onder de noten uit het voorbeeld hoeveel tellen ze duren
Kijk goed naar de maatsoort en noteer dan het juiste cijfer
(het aantal tellen) alleen op de streepjes onder de noten.



Vraag

5

behaald aantal
punten (max: 10):

MUZIEK TEKENS

In het volgende voorbeeld zie je verschillende tekens.
In elke maat zie je weer een ander teken staan.
Bekijk het voorbeeld goed en beantwoord dan de vragen.



- a Wat betekent het > teken in maat 3 en 4?
- b En het < teken in maat 5 en 6?
- c Welke maten uit het liedje moet je 2x spelen?
- d Wat betekent het teken 8va in maat 8?
- e En het boogje met de punt in maat 8?



Vraag

6

behaald aantal
punten (max: 10):

VREEMDE WOORDEN EN TEMPO-AANDUIDINGEN

In het voorbeeld hieronder zie je tekens en woorden die te maken hebben met het tempo waarin je een muziekstuk speelt. Bekijk het voorbeeld goed en beantwoord dan de vragen.

Adagio $\text{♩} = 40$



a tempo



- a Wat betekent Adagio?
- b Wat betekent het nootje met = 40?
- c Wat betekent riten
- d Wat betekent a tempo?
- e Wat heeft $\frac{3}{4}$ aan het begin met het tempo te maken?



Vraag

7

behaald aantal
punten (max: 10):

BOGEN EN PUNTEN

Bekijk het onderstaande notenvoorbeeld goed en voer de opdrachten uit.

Je mag alleen een boog of een punt bijschrijven.



- a Laat zien dat je maat 1 en 2 legato (gebonden) moet spelen
- b Laat zien dat je maat 3 staccato (kort) moet spelen.
- c Maak van de laatste noot van maat 1 en de eerste van maat 2 één noot.
- d Het aantal tellen in maat 4 klopt niet. Hoe kun je dit oplossen?
- e Laat zien dat je in maat 4 weer legato moet spelen



