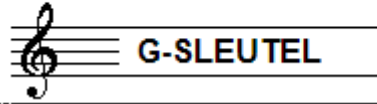


EXAMEN MUZIEKLEER



B 2016 - 2017

NAAM: INSTRUMENT:



TOTAAL AANTAL PUNTEN: EINDCIJFER:

Vraag

1

behaald aantal
punten (max 10):

SOLFEGE - INTERVALLEN HOREN

De intervallen worden voorgespeeld. Welke intervallen hoor je?
Kruis bij iedere vraag het juiste antwoord aan, zo dus:

- a
- b
- c
- d
- e

- prime secunde terts kwart kwint sext septiem oktaaf
prime secunde terts kwart kwint sext septiem oktaaf
prime secunde terts kwart kwint sext septiem oktaaf
prime secunde terts kwart kwint sext septiem oktaaf
prime secunde terts kwart kwint sext septiem oktaaf

Vraag


2

behaald aantal
punten (max 10):

SOLFEGE - RITMISCH - EN MELODISCH DICTEE


a

RITMISCH DICTEE: Er wordt een ritme in gedeelten voorgespeeld.
Noteer het ritme met behulp van noten op de onderstaande notenbalk.



b

MELODISCH DICTEE: Er wordt een melodie in gedeelten voorgespeeld.
Noteer de melodie met behulp van noten op de onderstaande notenbalk.




Vraag

3

behaald aantal
punten (max 10):

DE LENGTE VAN DE NOTEN

Noteer met behulp van een cijfer
onder alle noten
hoeveel tellen ze duren.



.....

Vraag

4

behaald aantal
punten (max: 10):

NOTEN EN VOORTEKENS

Noteer de namen van de noten op de lijn eronder.
Benoem alleen de noten in het cirkeltje.



Vraag

5

behaald aantal
punten (max: 10):

MAJEUR EN MINEUR

In elke maat in het onderstaande voorbeeld vormen de
noten samen een akkoord. Schrijf de namen op de lijn eronder.
(bijvoorbeeld C-mineur of F-majeur, enzovoort)



Vraag

6

behaald aantal
punten (max: 10):

VREEMDE WOORDEN EN TEKENS

Bekijk het onderstaande voorbeeld nauwkeurig
en beantwoord de vragen.
Denk eraan dat sommige vragen met elkaar hebben te maken!



- a In welk tempo moet je het stukje spelen?
- b Hoe vaak moet je maat 12 en 13 spelen?
- c Hoe vaak moet je maat 5 en 6 spelen?
- d Hoe vaak moet je maat 1 en 2 spelen?
- e Wat betekent het teken in maat 7?

Vraag

7

behaald aantal
punten (max: 10):

BOGEN EN PUNTEN

Bestudeer het onderstaande voorbeeld goed en beantwoord dan de vragen over de bogen en de punten.



- a) Wat betekent de boog in maat 1?
- b) Wat betekenen de punten in maat 2?
- c) Wat betekenen de punten in maat 3?
- d) Wat betekent de boog in maat 4?
- e) En de boogjes in maat 4 en 5?


Vraag

8

behaald aantal
punten (max: 10):

INTERVALLEN

Teken de gevraagde intervallen op de notenbalk. Neem daarbij als onderste toon de C. Schrijf duidelijk, zodat de noten goed leesbaar zijn.



grote terts sext kleine terts secunde septiem

Vraag

9

behaald aantal
punten (max: 10):

MAATSOORTEN

De volgende melodie moet worden gespeeld in swingritme. Vaak wordt dat geschreven zoals hieronder. Maar noteer de eerste maat nu eens zoals het officieel zou moeten of zoals het vaak wordt genoteerd.



Vraag

10

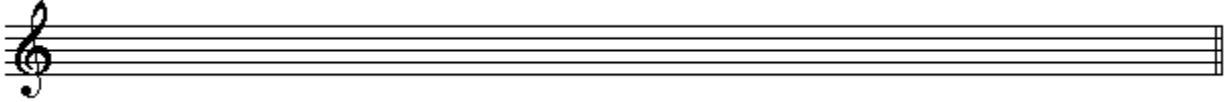
behaald aantal
punten (max: 10):

STAMTONEN EN TOONLADDERS

Noteer op de lege notenbalken de gevraagde toonladders.
Lees de opdrachten nauwkeurig en
schrijf duidelijk.

a

De stamtonenreeks met alle afstanden




b

De toonladder van d mineur




c

De toonladder van F groot



d

De toonladder van e klein



e

De toonladder van a melodisch

