

EXAMEN MUZIEKLEER



A 2017 ~ 2018

NAAM: INSTRUMENT:



G-SLEUTEL

TOTAAL AANTAL PUNTEN: EINDCIJFER:

Vraag

1

behaald aantal
punten (max 10):

SOLFEGE - INTERVALLEN HOREN

De intervallen worden voorgespeeld. Welke intervallen hoor je?
Kruis bij iedere vraag het juiste antwoord aan, zo dus:

- a
- b
- c
- d
- e

- | | | | | |
|--------------------------------|----------------------------------|--------------------------------|--------------------------------|--------------------------------|
| prime <input type="checkbox"/> | secunde <input type="checkbox"/> | terts <input type="checkbox"/> | kwart <input type="checkbox"/> | kwint <input type="checkbox"/> |
| prime <input type="checkbox"/> | secunde <input type="checkbox"/> | terts <input type="checkbox"/> | kwart <input type="checkbox"/> | kwint <input type="checkbox"/> |
| prime <input type="checkbox"/> | secunde <input type="checkbox"/> | terts <input type="checkbox"/> | kwart <input type="checkbox"/> | kwint <input type="checkbox"/> |
| prime <input type="checkbox"/> | secunde <input type="checkbox"/> | terts <input type="checkbox"/> | kwart <input type="checkbox"/> | kwint <input type="checkbox"/> |
| prime <input type="checkbox"/> | secunde <input type="checkbox"/> | terts <input type="checkbox"/> | kwart <input type="checkbox"/> | kwint <input type="checkbox"/> |

Vraag


2

behaald aantal
punten (max 10):

SOLFEGE - RITMISCH - EN MELODISCH DICTEE


a

RITMISCH DICTEE: Er wordt een ritme in gedeelten voorgespeeld.
Noteer het ritme met behulp van noten op de onderstaande notenbalk.



b

MELODISCH DICTEE: Er wordt een melodie in gedeelten voorgespeeld.
Noteer de melodie met behulp van noten op de onderstaande notenbalk.




Vraag

3

behaald aantal
punten (max 10):

NOTEN EN VOORTEKENS

Schrijf onder de noten met het cirkeltje erom de namen van de noten.
Bekijk het notenvoorbeeld goed
en zorg dat je duidelijk schrijft.



Vraag

4

behaald aantal
punten (max: 10):

DE LENGTE VAN DE NOTEN

Noteer onder de noten en de rusten uit het voorbeeld hoeveel tellen ze duren. Kijk goed naar de maatsoort en noteer dan het juiste cijfer (het aantal tellen) bij de noten met de streepjes eronder.



Vraag

5

behaald aantal
punten (max: 10):

MUZIEK TEKENS

In het volgende voorbeeld zie je een aantal verschillende tekens staan. Bekijk ze goed en beantwoord dan de vragen.



- a Welke tonen moet je een halve toon verlagen in dit muziekstukje?
- b Wat betekent pp in maat 9?
- c Welke maten uit het liedje moet je 2x spelen?
- d Hoe heet de laatste noot van maat 13?
- e Moet je hard of zacht beginnen te spelen met dit muziekstukje?



Vraag

6

behaald aantal
punten (max: 10):

VREEMDE WOORDEN EN TEMPO-AANDUIDINGEN

In het voorbeeld hieronder zie je tekens en woorden die te maken hebben met het tempo waarin je een muziekstuk speelt. Bekijk het voorbeeld goed en beantwoord dan de vragen.

The musical score is written on four staves in treble clef with a key signature of one sharp (F#). The time signature is 3/4. The first staff contains measures 1-4, marked 'Allegro' with a quarter note equal to 113. The second staff contains measures 5-7, with 'ritenuto' above measure 5 and 'a tempo' above measure 7. The third staff contains measures 8-11. The fourth staff contains measures 12-14, with 'riten.' above measure 12 and 'Allegro' with a quarter note equal to 130 above measure 13.

- a Wat betekent Allegro?
- b Wat betekent het nootje met = 113?
- c Wat betekent ritenuto
- d Wat betekent a tempo?
- e In welke maat komt er een echte tempowisseling?

Vraag

7

behaald aantal
punten (max: 10):

BOGEN EN PUNTEN

Het onderstaande notenvoorbeeld gaat over articulatie. Bestudeer het goed en beantwoord de vragen.

The musical score is written on a single staff in treble clef with a key signature of one sharp (F#) and a time signature of 3/4. It consists of seven measures. Slurs are placed over measures 2-3 and 5-7. An accent (>) is placed over the first note of measure 4.

- a Hoe moet je maat 1 spelen?
- b Hoe moet je maat 2 spelen?
- c Hoelang duurt de eerste noot van maat 4?
- d Hoelang duurt de noot in maat 7?
- e Hoelang moet je de b in maat 5 in totaal spelen?


Vraag

8

behaald aantal
punten (max: 10):

INTERVALLEN

Teken de gevraagde intervallen op de notenbalk.
Noteer de sleutel aan het begin en
neem telkens als onderste toon de c.



ters

kwint

secunde

kwart

septiem




Vraag

9

behaald aantal
punten (max: 10):

MAATSOORTEN

Bekijk de onderstaande twee voorbeeldjes nauwkeurig en
beantwoord daarna de vragen.



- a In welke maatsoort staat voorbeeldje 1? _____
- b In welke maatsoort staat voorbeeldje 2? _____
- c Hoeveel tellen krijgt de eerste noot van voorbeeld 1? _____
- d Hoeveel tellen krijgt de eerste noot van voorbeeld 2! _____
- e Hoeveel tellen zitten er in elke maat bij voorbeeld 2? _____



Vraag

10

behaald aantal
punten (max: 10):

DE STAMTONENRIJ

Voer de opdrachten uit die bij deze vraag horen en denk eraan:
SCHRIJF RUIM EN DUIDELIJK EN ZORG DAT ALLE NOTEN LEESBAAR ZIJN!
Gebruik daarom de hele notenbalk!!

- a Teken eerst de sleutel waarvan jij altijd leest aan het begin van de lege notenbalk.
- b Schrijf dan de noten op van de stamtonenrij.
- c Schrijf de namen van alle noten eronder.
- d Noteer nu de afstanden tussen de noten, met behulp van boogjes.
- e Wijs met een pijltje de noot aan die we de terts noemen.

