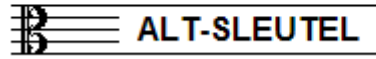


EXAMEN MUZIEKLEER



B 2017 ~ 2018

NAAM: INSTRUMENT:



TOTAAL AANTAL PUNTEN: EINDCIJFER:

Vraag

1

behaald aantal
punten (max 10):

SOLFEGE - INTERVALLEN HOREN

De intervallen worden voorgespeeld. Welke intervallen hoor je?
Kruis bij iedere vraag het juiste antwoord aan, zo dus:

- a
- b
- c
- d
- e

- prime secunde terts kwart kwint sext septiem oktaaf
prime secunde terts kwart kwint sext septiem oktaaf
prime secunde terts kwart kwint sext septiem oktaaf
prime secunde terts kwart kwint sext septiem oktaaf
prime secunde terts kwart kwint sext septiem oktaaf

Vraag


2

behaald aantal
punten (max 10):

SOLFEGE - RITMISCH - EN MELODISCH DICTEE


a

RITMISCH DICTEE: Er wordt een ritme in gedeelten voorgespeeld.
Noteer het ritme met behulp van noten op de onderstaande notenbalk.



b

MELODISCH DICTEE: Er wordt een melodie in gedeelten voorgespeeld.
Noteer de melodie met behulp van noten op de onderstaande notenbalk.



Vraag

3

behaald aantal
punten (max 10):

DE LENGTE VAN DE NOTEN

Noteer op de stippellijn onder de 5 noten
met behulp van een cijfer
hoeveel tellen ze dueren.



.....

Vraag

4

behaald aantal punten (max: 10):

NOTEN EN VOORTEKENS

Noteer de namen van de 5 noten op de stippellijn eronder.



.....

Vraag

5

behaald aantal punten (max: 10):

MAJEUR EN MINEUR

In elke maat in het onderstaande voorbeeld vormen de noten samen een akkoord. Schrijf de namen op de lijn eronder. (bijvoorbeeld C-mineur of F-majeur, enzovoort)



.....

Vraag

6

behaald aantal punten (max: 10):

VREEMDE WOORDEN EN TEKENS

Bekijk het onderstaande voorbeeld nauwkeurig en beantwoord de vragen. Denk eraan dat sommige vragen met elkaar hebben te maken!



- a In welk tempo moet je het stukje spelen?
- b Hoe vaak moet je maat 4 spelen?
- c Welke maat moet je spelen ná maat 13?
- d Welke maat moet je spelen vóór maat 14?
- e Wat is het coda van een muziekstuk?



Vraag

7

behaald aantal
punten (max: 10):

BOGEN EN PUNTEN

Deze vraag gaat over articulatie.
Bestudeer het voorbeeld en
beantwoord dan de vragen.



- a Hoe moet je maat 2 spelen?
- b Hoe moet je maat 3 spelen?
- c Wat betekent 't boogje tussen maat 3 en 4?
- d Hoelang duurt de eerste noot van maat 1?
- e Mag je kleine ademopeningen maken aan het einde van maat 1 en 2?




Vraag

8

behaald aantal
punten (max: 10):

INTERVALLEN

Teken de gevraagde intervallen op de notenbalk
Neem daarbij als onderste toon de C.
Schrijf duidelijk, zodat de noten goed leesbaar zijn.



oktaaf kwint kleine terts grote terts septiem





Vraag

9

behaald aantal
punten (max: 10):

MAATSOORTEN

Noteer hieronder voorbeelden van 2 maten, van de volgende
maatsoorten: Een zes achtsten maat en een driekwartsmaat.
Noteer ook de maataanduiding voor aan de sleutel.



Vraag


10

behaald aantal
punten (max: 10):


STAMTONEN EN TOONLADDERS

Noteer op de lege notenbalken de gevraagde toonladders.
Lees de opdrachten nauwkeurig en
schrijf duidelijk.


a De stamtonenreeks met daarin alle afstanden aangegeven




b De toonladder van G groot



c De toonladder van F groot



d De toonladder van e klein harmonisch



e De toonladder van d klein melodisch

